

SINIF İÇİ PAKET

# DENEME SINAVI

HAYAT BİLGİSİ

TÜRKÇE - MATEMATİK

İNGİLİZCE

# 2

DENEME - 1



AKILLI TAHTA  
UYUMLU



MODEL  
EĞİTİM YAYINLARI

**"ŞİMDİ DENEME VAKTİ"**

MODEL OPTİK  
OKUMA







1.

Yolculukta yemek için hazırlanan yemek

• anlaşma

İki taraf arasındaki belli konuda uyuşma.

• zarar

Bir olayın yol açtığı kötü sonuç, çıkar yöntemi.

• azık

Kelime ve anlamlarının eşleştirilmesi hangi seçenekte doğru gösterilmiştir?

A)



B)



C)



2.

İskete kuşu, halk arasında "saka" olarak bilinir. Kanatları koyu renkli olur ve üzerlerinde sarı motifler bulunur. Karışık ağaçlı ormanlarda yaşarlar, ağaçların tohumlarıyla beslenirler.

Ülkemizde Karadeniz Bölgesinde yaşarlar. Göç sırasında birçok ülkede görülebilirler.

Yukarıdaki metinde hangisinden bahsedilmemiştir?

- A) İskete kuşunun yaşadığı yerden  
 B) İskete kuşunun ne ile beslendiğinden  
 C) İskete kuşunun ötme şekillerinden

3. uzun - en - ormandaki -  
ağaç - ağacıydı - çınar

Yukarıdaki kelimelerle oluşturulan kurallı cümle hangi seçenekte verilmiştir?

- A) Ormandaki en uzun ağacıydı çınar.  
B) Çınar ağacıydı ormandaki en uzun ağaç.  
C) Ormandaki en uzun ağaç çınar ağacıydı.

4. Aşağıdaki cümlelerden hangisinde zıt anlamlı kelimeler vardır?

- A) Sabah çıkıp, akşam döndü.  
B) Uzun ve büyük bir ağaçtı.  
C) İnanıp inanmadığını bilmiyorum.

5. Aşağıdaki kelimelerden hangileri zıt anlamlıdır?

- A) zor - zarar  
B) acemi - usta  
C) kocaman - iri

6. Kırlarda dolu dolu  
Sarı çiçek  
Mavi çiçek  
Mor çiçek  
Bu çiçekler içinden  
Güzel gülen  
Güzel çocuklar geçecek



Yukarıdaki şiirin başlığı hangisi olabilir?

- A) Çocuklar ve Çiçekler  
B) Güzel Zamanlar  
C) Sarı Çiçek

7. 1 vatan 2 az  
3 uzak 4 yurt  
5 pembe 6 kısa

Verilen kelimelerden hangileri eş anlamlıdır?

- A) 1 ve 4 B) 3 ve 6  
C) 2 ve 5



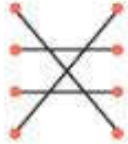
8. Aşağıdaki kelime gruplarından hangisi sözlük sırasına göre yazılmıştır?

- A) arma - tuz - yonca - bulut  
B) çilek - kum - ulu - vida  
C) ders - lamba - sis - orman

9.

turta	•	•	1.
turp	•	•	2.
turşu	•	•	3.
turbo	•	•	4.

Yukarıdaki kelimelerin sözlük sırası numaraları ile eşleştirilmesi hangi seçenekte doğru verilmiştir?

- A) 
- B) 
- C) 

10. Hangi cümledeki tüm kelimeler hecelerine doğru ayrılmıştır?

- A) Bu-gün o-kul tatil.  
B) Son-bahar mev-sim-i geldi.  
C) Park-ta o-yun oy-nu-yor.

11. Aşağıdaki görsellerden hangisi çabayı anlatır?



12. Bu mevsimi nasıl anlatmalıyım bilmiyorum. Rengârenk yapraklar desem ipucu vermiş olur muyum? Rüzgâr, yağmur ve ellerinde şemsiyeli insanlar var.

Ağaçlarda kuru dallar, gri gökyüzü ve daha birçok şey bu mevsimin özelliğidir.

Yukarıdaki metinde anlatılan mevsim hangisidir?

- A) ilkbahar      B) kış  
C) sonbahar

13. sabah erkenden uyanıp atların yanına koştu.

Yukarıdaki cümle yazılırken hangi hata yapılmıştır?

- A) Büyük harf kuralı  
B) Noktalama işareti yanlışlığı  
C) Yanlış kelime kullanımı

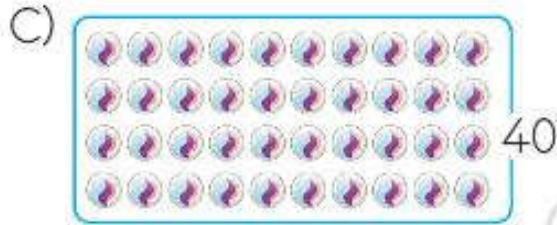
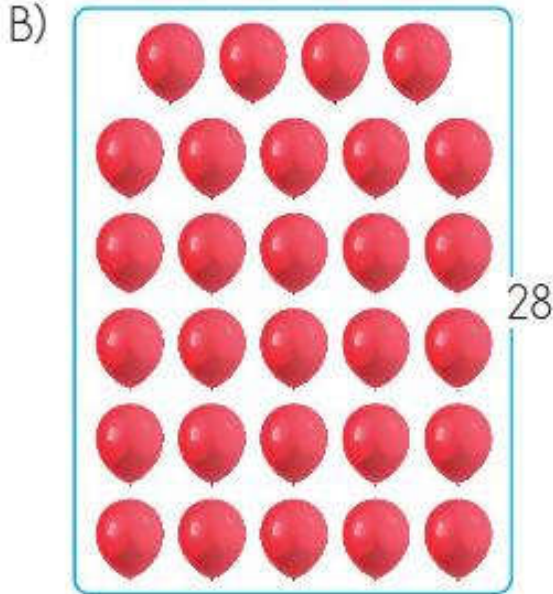
14. Aşağıdaki aynı harfle başlayan kelimelerden hangileri eş anlamlıdır?

- A) sıcak - soğuk  
B) soru - sual  
C) gece - gündüz

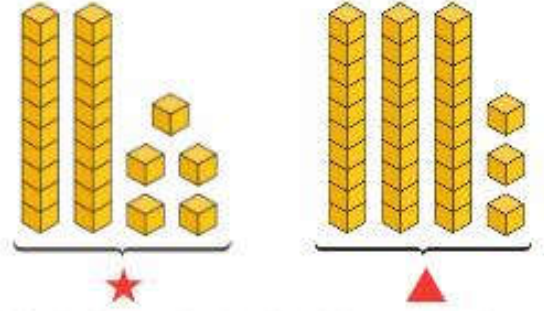
15. Aşağıdaki kelimelerden hangisi hecelerine doğru ayrılmıştır?

- A) kra - li - çe  
B) t - ran - sit  
C) he - li - kop - ter

1. Verilen nesne sayılarında hangisi hatalıdır?



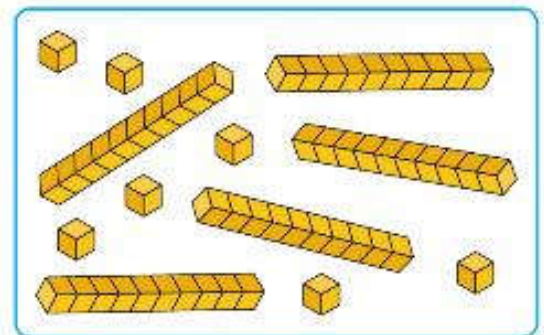
2.



Onluk ve birlik bloklarıyla oluşturulan sayıların yazılışı hangi seçenekte doğru verilmiştir?

- |    |                     |                     |
|----|---------------------|---------------------|
|    | ★                   | ▲                   |
| A) | 5 onluk<br>2 birlik | 2 onluk<br>0 birlik |
| B) | 3 onluk<br>3 birlik | 2 onluk<br>5 birlik |
| C) | 2 onluk<br>5 birlik | 3 onluk<br>3 birlik |




3.



Yukarıdaki onluk ve birlik bloklarıyla gösterilen sayı kaçtır?

- A) 56 B) 47 C) 57

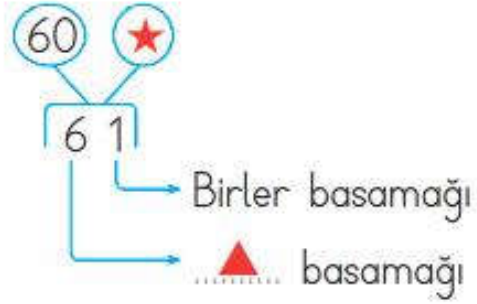
4. Aşağıda verilen görselleri bir düzineye tamamlamak istersek, hangisine daha fazla nesne çizmeliyiz?

- A) 
- B) 
- C) 

5. Verilen sayılardan hangisinin basamak değeri yanlış gösterilmiştir?

- A)  $\begin{array}{r} 8 \ 2 \\ \quad \swarrow \searrow \\ \quad \quad 2 \\ \swarrow \quad \quad \searrow \\ 80 \end{array}$
- B)  $\begin{array}{r} 6 \ 7 \\ \quad \swarrow \searrow \\ \quad \quad 6 \\ \swarrow \quad \quad \searrow \\ 70 \end{array}$
- C)  $\begin{array}{r} 9 \ 1 \\ \quad \swarrow \searrow \\ \quad \quad 1 \\ \swarrow \quad \quad \searrow \\ 90 \end{array}$

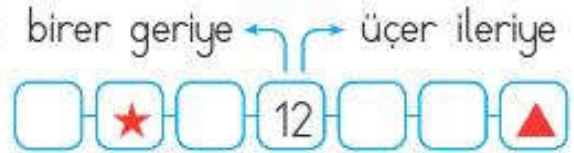
6.



Yukarıda verilenlere göre ★ ve ▲ yerine hangileri gelmelidir?

- A) ★ → 60      ▲ → onlar
- B) ★ → 1      ▲ → onlar
- C) ★ → onlar      ▲ → 1

7.



Yukarıda kuralları verilen sayı örüntüsüne ★ ve ▲ yerine hangi sayı gelmelidir?

- |    |    |    |
|----|----|----|
|    | ★  | ▲  |
| A) | 10 | 18 |
| B) | 9  | 24 |
| C) | 10 | 21 |



8. 
$$\begin{array}{cccc} +4 & -2 & +4 & -2 \\ \frown & \frown & \frown & \frown \\ 7 & - 11 & - 10 & - \dots - ? \end{array}$$

Yukarıdaki örüntü kuralına göre "?" yerine hangi sayı gelmelidir?

- A) 14    B) 12    C) 10

9. İki deste, bir düzineden kaç fazladır?

- A) 8    B) 2    C) 0

10. 
$$75 - 68 - \star - 51$$

Yukarıda verilen sıralamanın büyükten küçüğe doğru olması için "?" yerine hangi sayı yazılamaz?

- A) 58    B) 55    C) 50

11. 
$$4 - 9 - 14 - 19 - 24 - 29$$

Yukarıda verilen sayı örüntüsünün kuralı ile aynı kurala sahip olan örüntü hangi seçenekte verilmiştir?

- A) 6-11-16-21-26-31  
B) 7-12-18-25-33-42  
C) 5-10-16-23-30-38

12. 35'ten başlayıp (35 dahil) ileriye doğru beşer ritmik sayarken 8. sayı kaçtır?


- A) 70    B) 65    C) 60

13. Hangi seçenekte sayıların büyükten küçüğe doğru sıralanmasında hata yapılmıştır?


- A) 92 - 87 - 63 - 55  
B) 87 - 78 - 45 - 54  
C) 63 - 52 - 45 - 33

14. Hangi seçenekteki nesne sayısı daha fazladır?


A)



B)



C)



Model Eğitim Yayınları

Model Eğitim Yayınları

15.

İfadeler	Sayısı		
	24	30	10
1 deste kalem			
2 düzine silgi			
3 deste defter			

İfadelerin sayısına "✓" atarak tablo doldurulduğunda hangi seçenek doğru olur?

A)

		✓
✓		
	✓	

B)

✓		
		✓
	✓	

C)

	✓	
✓		
		✓

1. ▲ Saçlarım sarı renklidir.  
 ★ Gitar çalmada yetenekliyim.  
 ■ En sevdiğim ders görsel sanatlardır.

Yukarıdaki ifadelerden hangileri fiziksel özelliklerimizle ilgili değildir?

- A. ▲, ★ B. ■, ★  
 C. ▲, ■

2.

fabrika	eczane
market	park
kirtasiye	düğün salonu

Yukarıdakilerden hangileri okulumuzun çevresinde olmamalıdır?

- A) park - eczane  
 B) market - kirtasiye  
 C) fabrika - düğün salonu

3. Aşağıdaki ifadelerden hangisi yanlıştır?

- A) Düşüncelerimizi kibarca açıklarız.  
 B) Sınıfımızın kurallarını başkaları belirler.  
 C) Sınıf kurallarına sınıfımızdaki herkes uymalıdır.

4.

Davranışlar	Olumlu	Olumsuz
Çabalamak		
İtmek		
Dinlemek		

Verilen tablo "✓" atılarak doldurulduğunda hangi seçenek doğru olur?

- A) 

	✓
	✓
✓	

 B) 

✓	
	✓
✓	

 C) 

✓	
✓	
	✓

5.

## Grup Çalışması

1. sorumluluk
2. saygısızlık
3. bencillik
4. hırslılık
5. paylaşımcılık

Grup çalışması ile ilgili verilenlerden hangi numaralarda yazanlar doğrudur?

- A) 1 - 3      B) 2 - 4  
C) 1 - 5

6.

karakter

ten rengi

yetenek

kilo

göz rengi

Yukarıdakilerden kaç tanesi fiziksel özelliklerimizdendir?

- A) 5      B) 4      C) 3

7.

su

ısınmak

doğal gaz

aydınlanma

elektrik

içmek-temizlik

Yukarıdaki eşleştirmenin doğru olması için hangi kaynakların yer değiştirmesi gerekir?

- A) su - elektrik  
B) doğal gaz - elektrik  
C) su - doğal gaz

8.

Grup çalışması ile ilgili verilenlerden hangisi yanlıştır?

- A) Grup çalışmalarında ortak kararlar alınmalıdır.  
B) Grup çalışmalarında iş bölümü yapılmalıdır.  
C) Grup çalışmalarında her zaman bir kişinin sözü geçmelidir.

9. Ders programına göre;
- ➔ Müzik dersi için çantama ....1..... koyarım.
  - ➔ Türkçe dersi için çantama ....2..... koyarım.
  - ➔ Matematik dersi için çantama ....3..... koyarım.

Yukarıdaki cümlelerde boş bırakılan yerlere hangi seçenekte verilenler yazılmalıdır?

- |           |        |                |
|-----------|--------|----------------|
|           |        |                |
| 1         | 2      | 3              |
| A) sözlük | flüt   | abaküs         |
| B) defter | boya   | sayı çubukları |
| C) flüt   | sözlük | cetvel         |

10. ( ) Kaynakların dikkatli kullanılmasına tasarruf denir.  
 ( ) Kullanılan kaynaklar sınırsızdır.  
 ( ) Kaynakları dilediğimiz gibi kullanabiliriz.

İfadelerden doğru olanların başına "D", yanlış olanlara "Y" koyduğumuzda doğru seçenek hangisi olur?

- |   |   |   |   |   |   |   |   |   |   |   |   |
|---|---|---|---|---|---|---|---|---|---|---|---|
| A) <table border="1" style="display: inline-table; vertical-align: middle;"><tr><td>D</td></tr><tr><td>Y</td></tr><tr><td>Y</td></tr></table> | D | Y | Y | B) <table border="1" style="display: inline-table; vertical-align: middle;"><tr><td>D</td></tr><tr><td>D</td></tr><tr><td>D</td></tr></table> | D | D | D | C) <table border="1" style="display: inline-table; vertical-align: middle;"><tr><td>Y</td></tr><tr><td>D</td></tr><tr><td>D</td></tr></table> | Y | D | D |
| D   |   |   |   |   |   |   |   |   |   |   |   |
| Y   |   |   |   |   |   |   |   |   |   |   |   |
| Y   |   |   |   |   |   |   |   |   |   |   |   |
| D   |   |   |   |   |   |   |   |   |   |   |   |
| D   |   |   |   |   |   |   |   |   |   |   |   |
| D   |   |   |   |   |   |   |   |   |   |   |   |
| Y   |   |   |   |   |   |   |   |   |   |   |   |
| D   |   |   |   |   |   |   |   |   |   |   |   |
| D   |   |   |   |   |   |   |   |   |   |   |   |

1.



g o \_ i l \_ a

Yukarıdaki hayvan görselinin eksik harfleri hangi seçenektir?

- A) m - l      B) r - l  
C) r - n

2. İngilizce kelimelerin Türkçe karşılıkları verilirken hangi seçenekte hata yapılmıştır?

- A) cake - kek  
B) garange - otel  
C) lemon - limon

3. Aşağıda verilenlerden hangisinin isminde yan yana aynı harf yoktur?

A)



B)



C)



4.



pizza



coffee



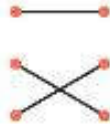
zebra

Yukarıdaki görsellerle isimleri eşleştirmesi hangi seçenekte doğru verilmiştir?

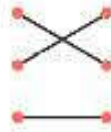
A)



B)



C)



5.



Görsellere göre şekillere hangi sporlar yazılmalıdır?

A) ▲ - basketball





★ - tennis

B) ▲ - hockey

★ - tennis

C) ▲ - basketball

★ - football



TÜRKÇE				MATEMATİK				HAYAT BİLGİSİ				İNGLİZCE			
A B C				A B C				A B C				A B C			
1	<input type="radio"/>	<input type="radio"/>	<input type="radio"/>	1	<input type="radio"/>	<input type="radio"/>	<input type="radio"/>	1	<input type="radio"/>	<input type="radio"/>	<input type="radio"/>	1	<input type="radio"/>	<input type="radio"/>	<input type="radio"/>
2	<input type="radio"/>	<input type="radio"/>	<input type="radio"/>	2	<input type="radio"/>	<input type="radio"/>	<input type="radio"/>	2	<input type="radio"/>	<input type="radio"/>	<input type="radio"/>	2	<input type="radio"/>	<input type="radio"/>	<input type="radio"/>
3	<input type="radio"/>	<input type="radio"/>	<input type="radio"/>	3	<input type="radio"/>	<input type="radio"/>	<input type="radio"/>	3	<input type="radio"/>	<input type="radio"/>	<input type="radio"/>	3	<input type="radio"/>	<input type="radio"/>	<input type="radio"/>
4	<input type="radio"/>	<input type="radio"/>	<input type="radio"/>	4	<input type="radio"/>	<input type="radio"/>	<input type="radio"/>	4	<input type="radio"/>	<input type="radio"/>	<input type="radio"/>	4	<input type="radio"/>	<input type="radio"/>	<input type="radio"/>
5	<input type="radio"/>	<input type="radio"/>	<input type="radio"/>	5	<input type="radio"/>	<input type="radio"/>	<input type="radio"/>	5	<input type="radio"/>	<input type="radio"/>	<input type="radio"/>	5	<input type="radio"/>	<input type="radio"/>	<input type="radio"/>
6	<input type="radio"/>	<input type="radio"/>	<input type="radio"/>	6	<input type="radio"/>	<input type="radio"/>	<input type="radio"/>	6	<input type="radio"/>	<input type="radio"/>	<input type="radio"/>	6	<input type="radio"/>	<input type="radio"/>	<input type="radio"/>
7	<input type="radio"/>	<input type="radio"/>	<input type="radio"/>	7	<input type="radio"/>	<input type="radio"/>	<input type="radio"/>	7	<input type="radio"/>	<input type="radio"/>	<input type="radio"/>	7	<input type="radio"/>	<input type="radio"/>	<input type="radio"/>
8	<input type="radio"/>	<input type="radio"/>	<input type="radio"/>	8	<input type="radio"/>	<input type="radio"/>	<input type="radio"/>	8	<input type="radio"/>	<input type="radio"/>	<input type="radio"/>	8	<input type="radio"/>	<input type="radio"/>	<input type="radio"/>
9	<input type="radio"/>	<input type="radio"/>	<input type="radio"/>	9	<input type="radio"/>	<input type="radio"/>	<input type="radio"/>	9	<input type="radio"/>	<input type="radio"/>	<input type="radio"/>	9	<input type="radio"/>	<input type="radio"/>	<input type="radio"/>
10	<input type="radio"/>	<input type="radio"/>	<input type="radio"/>	10	<input type="radio"/>	<input type="radio"/>	<input type="radio"/>	10	<input type="radio"/>	<input type="radio"/>	<input type="radio"/>	10	<input type="radio"/>	<input type="radio"/>	<input type="radio"/>
11	<input type="radio"/>	<input type="radio"/>	<input type="radio"/>	11	<input type="radio"/>	<input type="radio"/>	<input type="radio"/>	11	<input type="radio"/>	<input type="radio"/>	<input type="radio"/>	11	<input type="radio"/>	<input type="radio"/>	<input type="radio"/>
12	<input type="radio"/>	<input type="radio"/>	<input type="radio"/>	12	<input type="radio"/>	<input type="radio"/>	<input type="radio"/>	12	<input type="radio"/>	<input type="radio"/>	<input type="radio"/>	12	<input type="radio"/>	<input type="radio"/>	<input type="radio"/>
13	<input type="radio"/>	<input type="radio"/>	<input type="radio"/>	13	<input type="radio"/>	<input type="radio"/>	<input type="radio"/>	13	<input type="radio"/>	<input type="radio"/>	<input type="radio"/>	13	<input type="radio"/>	<input type="radio"/>	<input type="radio"/>
14	<input type="radio"/>	<input type="radio"/>	<input type="radio"/>	14	<input type="radio"/>	<input type="radio"/>	<input type="radio"/>	14	<input type="radio"/>	<input type="radio"/>	<input type="radio"/>	14	<input type="radio"/>	<input type="radio"/>	<input type="radio"/>
15	<input type="radio"/>	<input type="radio"/>	<input type="radio"/>	15	<input type="radio"/>	<input type="radio"/>	<input type="radio"/>	15	<input type="radio"/>	<input type="radio"/>	<input type="radio"/>	15	<input type="radio"/>	<input type="radio"/>	<input type="radio"/>

Test No  
1610

Öğrenci No

0	<input type="radio"/>	<input type="radio"/>	<input type="radio"/>
1	<input type="radio"/>	<input type="radio"/>	<input type="radio"/>
2	<input type="radio"/>	<input type="radio"/>	<input type="radio"/>
3	<input type="radio"/>	<input type="radio"/>	<input type="radio"/>
4	<input type="radio"/>	<input type="radio"/>	<input type="radio"/>
5	<input type="radio"/>	<input type="radio"/>	<input type="radio"/>
6	<input type="radio"/>	<input type="radio"/>	<input type="radio"/>
7	<input type="radio"/>	<input type="radio"/>	<input type="radio"/>
8	<input type="radio"/>	<input type="radio"/>	<input type="radio"/>
9	<input type="radio"/>	<input type="radio"/>	<input type="radio"/>



Bu deneme sınavının her hakkı saklıdır. Hangi amaçla olursa olsun, sınavın tamamının veya bir kısmının Model Eğitim Yayınları'nın yazılı izni olmadan kopya edilmesi, fotoğrafının çekilmesi, herhangi bir yolla çoğaltılması, yayımlanması ya da kullanılması yasaktır. Bu yasağa uymayanlar gerekli cezai sorumluluğu ve sınavın Üretimindeki mali külfeti peşinen kabullemiş sayılır.

**DENE MEVAKTI**

www.denemevakiti.com.tr

Model Eğitimle Daha Fazla

e-kitap satış: [www.modelkitap.com](http://www.modelkitap.com)

**Model Eğitim Yayınları Sanayi Ticaret Ltd. Şti**

İnönü Mah. Muammer Aksoy Cad. No: 80A/1 Sefaköy-K.ÇEKMECE/İSTANBUL

0212 452 3608 - [www.modelegitim.com](http://www.modelegitim.com) - [info@modelegitim.com](mailto:info@modelegitim.com)

[/modelegitimyayincilik](https://www.facebook.com/modelegitimyayincilik) [/modelegitimyayinlari](https://www.instagram.com/modelegitimyayinlari)



SINIF İÇİ PAKET

# DENEME SINAVI

HAYAT BİLGİSİ

TÜRKÇE - MATEMATİK

# 2

İNGİLİZCE

DENEME - 2



AKILLI TAHTA  
UYUMLU



MODEL  
EĞİTİM YAYINLARI

**"ŞİMDİ DENEME VAKTİ"**

MODEL OPTİK  
OKUMA





1. Çiçek olur açılır,  
Koku olur saçılır,  
Ondan vaz mı geçilir?  
Çocuk evin şenliği.

Tarık ORHAN

Yukarıdaki şiirin konusunu hangi görselle gösterebiliriz?

A)



B)



C)



2. 'Büyük' kelimesinin zıt anlam-  
lısı aşağıdaki cümlelerin han-  
gisinde kullanılmıştır?

- A) Pazardan iri kayısı aldım.  
B) Aylın, küçük bardaktan su içti.  
C) Elbisem bana tam geliyor.

3.

Kelime	Eş Anlamlısı
Uzak	Yakın
Küçük	Ufak
Konut	Ev

Yukarıdaki kâğıtlara kelimelerin eş anlamlısı yazılmıştır.

Hangi renkteki satırda kelime-  
nin eş anlamlısı **yanlış** yazıl-  
mıştır?

- A)
- B)
- C)

4. Annem( ) babam ve ablamla tiyatroya gittik( )

Yukarıdaki boş bırakılan yerlere sırasıyla hangi noktalama işaretleri konulmalıdır?

- A) Nokta, soru işareti
- B) Virgül, nokta
- C) Virgül, soru işareti

5. 29 ekim günü cumhuriyet  
1 2  
bayramı kutlamaları yapıldı.  
3

Yukarıdaki cümlede numara verilen sözcüklerden hangileri büyük harfle yazılmalıdır?

- A) 1 ve 2
- B) 2 ve 3
- C) 1, 2 ve 3

6. Annem kıyafetlerimi .....  
Yukarıdaki cümlede noktalı yere hangisini yazarsak cümle anlamsız olur?

- A) ütüledi
- B) yıkadı
- C) süpürdü

7. Hepimiz temizlik alışkanlığı kazanmalıyız. Oyun oynadıktan sonra hemen elimizi, yüzümüzü yıkamalıyız. Temiz elbiseler giymeliyiz. Yemeklerden önce ve sonra da elimizi yıkamalıyız.

Yukarıdaki metnin başlığı hangisi olabilir?

- A) Oyun
- B) Temizlik
- C) Okul

8.



Yukarıda verilen cümledeki **ya-**  
**zım yanlışı** nasıl düzeltilir?

- A) "Ahmet" sözcüğü küçük harfle yazılmalıdır.
- B) Cümle sonuna nokta konmalıdır.
- C) "mi" eki ayrı yazılmalıdır.

9.



Yukarıdaki sözcüklerle anlamlı ve kurallı cümle oluşturduğumuzda baştan üçüncü sözcük hangisi olur?

- A) hediye
- B) fotoğraf
- C) makinesini

9.

Teneffüs zili çalmıştı. Pinar arkadaşlarıyla bahçede saklambaç oynayacaktı. Hızla sınıftan çıktı. Koridorda koşarken arkadaşı Sena'ya çarptı. Sena yere düştü. Ayağı çok acımişti ve ağlıyordu. Pinar okul kurallarına uymadığı için üzüldü.

10. ve 11. soruları metne göre yanıtlayınız.

10.

Bu metnin konusu aşağıdakilerden hangisidir?

- A) Saklambaç oyununun kuralları
- B) Pinar'ın, arkadaşı Sena'ya çarpması
- C) Pinar'ın sevdiği oyunlar

11.

Pinar, arkadaşı Sena'ya nerede çarptı?

- A) Koridorda B) Bahçede
- C) Sınıfta

12. Okuduğum kitap, bir kaptanın maceralarını anlatıyor.

Yukarıdaki cümlede kırmızı ile yazılan sözcüğün anlamı aşağıdakilerden hangisidir?

- A) Şiddetli rüzgâr
- B) Sunulan yiyecek
- C) İlginç olaylar, serüven

13. "zaman" sözcüğünün eş anlamlısı aşağıdakilerden hangisidir?

Öğretmenin sorduğu sorunun cevabı aşağıdakilerden hangisidir?

- A) Gece
- B) Vakıt
- C) Eski


14. Aşağıdaki cümlelerden hangisinin sonuna nokta konur?

- A) Bana yardım eder misin
- B) Okuldan sonra nereye gideceksin
- C) Resim yapmayı seviyorum

15. Aşağıdaki sözcükler, zıt anlamını ifade eden görsellerle eşleştirilmiştir.

Buna göre hangi eşleştirmede yanlışlık yapılmıştır?

A) Soğuk  $\xleftrightarrow{\text{Zıt anlamı}}$  

B) Genç  $\xleftrightarrow{\text{Zıt anlamı}}$  

C) Hızlı  $\xleftrightarrow{\text{Zıt anlamı}}$  

1. Annesi Kerem'e masadaki tüm elmaları getirmesini söyledi. Kerem de elmaların hepsini annesine götürdü.



Kerem, annesine kaç tane elma götürmüştür?

- A) 17 B) 24 C) 32

2. Mustafa, farklı renklerdeki kartonlarda toplama işlemleri yapmıştır.

$$23 + 18 = 41$$

$$42 + 39 = 81$$

$$76 + 17 = 91$$

Hangi renkteki kartonda Mustafa'nın yaptığı işlemin sonucu yanlıştır?

- A) Pembe B) Mavi  
C) Yeşil

- 3.

Türkiye'nin 81 ili vardır.

Türkiye'deki il sayısının onlar basamağındaki rakamın basamak değeri kaçtır?

- A) 8 B) 10 C) 80

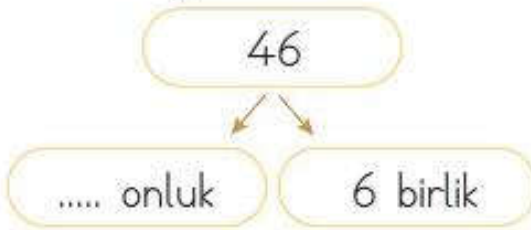
4.



Tarık ile Elif'in söylediği sayılar aşağıdakilerden hangisidir?

- A) Tarık → 93  
Elif → 68
- B) Tarık → 68  
Elif → 93
- C) Tarık → 63  
Elif → 98

5. Ayşe, 46 sayısını onluk ve birliklerine ayıracaktır.



Buna göre noktalı yere aşağıdakilerden hangisini yazmalıdır?

- A) 4 B) 40 C) 60

6. Elif, annesinin fotoğrafını çiçeklerle süslemek istiyor.



Elif, kaç çiçek daha kullanırsa 1 düzine çiçekle süsleme yapmış olur?

- A) 2 B) 3 C) 4

7.



Defterime yazdığım sayının birler basamağı 6'dır. Yazdığım sayının onlar basamağının basamak değeri 30'dur.

Murat'ın defterine yazdığı sayı aşağıdakilerden hangisidir?

- A) 36 B) 46 C) 63



8. Aşağıda üç tane sayının basamaklarında bulunan rakamlar verilmiştir.

46	Onlar basamağı 4 Birler basamağı 6
83	Onlar basamağı 8 Birler basamağı 3
98	Onlar basamağı 8 Birler basamağı 9

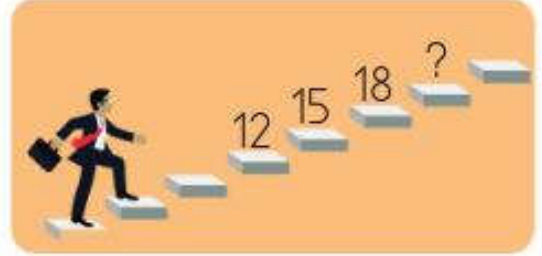
Hangi sayının basamaklarındaki rakamlar **yanlış** yazılmıştır?

- A) Turuncu B) Pembe  
C) Mor

9. Aşağıdaki ifadelerden hangisi doğrudur?

- A) 37, 35'ten küçüktür.  
B) 43, 42'den büyüktür.  
C) 40, 30'dan küçüktür.

10. Ahmet, merdiven basamaklarını belirli bir örüntüye göre çıkarmaktadır.



Buna göre yedinci basamaktaki sayı aşağıdakilerden hangisidir?

- A) 21 B) 22 C) 23

11. Esmâ 24'ten başlayarak 40'a kadar dörder ritmik sayma yapıyor.



Esmâ hangi sayıyı söylerken **yanlışlık** yapmıştır?

- A) 33 B) 36 C) 40

12.

$$\begin{array}{r} 48 \\ - 34 \\ \hline 14 \end{array}$$

$$\begin{array}{r} 36 \\ - 18 \\ \hline 22 \end{array}$$

$$\begin{array}{r} 62 \\ - 47 \\ \hline 15 \end{array}$$

Yukarıdaki işlemlerden kaç tanesinin sonucu doğrudur?

- A) 1      B) 2      C) 3

13.



Ayşe

$$90 - 50 = 30$$



Fatma

$$60 - 20 = 50$$



Hülya

$$70 - 30 = 40$$

Hangi öğrenci zihinden yaptığı işlem sonucunu doğru bulmuştur?

- A) Ayşe      B) Fatma  
C) Hülya

14. Aşağıda oyuncakların fiyatları verilmiştir.



Hangi oyuncak diğerlerinden daha pahalıdır?

- A) Ayıcık  
B) Tren  
C) Futbol topu

15. Aşağıdaki sayılardan hangisinin en yakın olduğu onluk yanlış yazılmıştır?

- A) 25 → 20  
B) 38 → 40  
C) 51 → 50

1.



Zeynep flüt çalmayı, Ayşe keman çalmayı, Filiz de gitar çalmayı seviyor.

Bu durum hangisiyle açıklanabilir?

- A) Arkadaşlarımızla farklı özelliklerimiz olabilir.
- B) İyi arkadaşlar aynı müzik aletlerini çalmazlar.
- C) Arkadaş seçerken bizimle aynı yetenekte olanları seçmeliyiz.

2.

Ali, Veli, Suat birlikte grup çalışması yapmaktadır. Ali resimleri hazırlıyor, Veli yazıları yazıyor, Suat ise konu ile ilgili bilgi topluyor.



Bu üç arkadaş için hangisi söylenemez?

- A) Aralarında iş bölümü yapıyorlar.
- B) Herkes sorumluluğunu yerine getiriyor.
- C) Birbirlerine saygı göstermiyorlar.

3. Ela, cuma günü okula götürmesi gereken araç gereçleri çantasına koyacaktır.

Perşembe	Cuma
Hayat Bilgisi	Hayat Bilgisi
Türkçe	Türkçe
Türkçe	Türkçe
Beden Eğitimi ve Oyun	Görsel Sanatlar
Matematik	Matematik
Müzik	Serbest Etkinlikler




Buna göre Ela'nın çantasında hangi araç-gerecin olmasına gerek **yoktur**?

- A) Flüt  
B) Resim defteri  
C) Türkçe defteri

4. Aşağıda grup çalışması yapan üç öğrencinin konuşmaları verilmiştir.

Hangi öğrenci grup çalışmasına uygun davranmaktadır?

A)  Sadece benim resimlerimi asalım.

B)  Ben sizin yerinize de yaparım.

C)  Bu konuda başka fikri olan var mı?

5. Ali, okul çevresinde hangi binaların olduğunu incelemiştir.



Resme göre Ali hangi binayı okul çevresinde **görmemiştir**?

- A) Banka  
B) Pastane  
C) Sağlık ocağı

6.



Öğretmenine seslenmek isteyen bir öğrenci hangisini söylerse nezaket kurallarına uyumuş olur?

- A) Öğretmenim, bana bak sana!
- B) Öğretmenim bana yardımcı olur musunuz?
- C) Buraya gel, sana söyleyeceklerim var!

7.



İyi bir dinleyici olmak için neler yapmalısınız?

Yukarıdaki soruya en uygun cevap hangisidir?

- A) Konuşmacının sözünü kesmem.
- B) Konuşmacıya bakmam.
- C) Başka şeylerle ilgilenirim.

8.



Merhaba, benim adım Efe. Sarı ve kıvrık saçlarım var. Yaşıtlarıma göre daha uzun boyluyum.

Efe konuşmasında hangi özelliğinden söz etmiştir?

- A) Zihinsel özelliğinden
- B) Fiziksel özelliğinden
- C) Duygusal özelliğinden

9. Aşağıdaki öğrencilerden hangisi fiziksel özelliğinden bahsetmiştir?

A)



Müzik dinlemek beni dinlendiriyor.

B)



Kitap okumayı çok seviyorum.

C)



Yirmi yedi kiloyum ve saçlarım kahverengidir.

Model Eğitim Yayınları

Model Eğitim Yayınları

10.

OKULDAKİ KAYNAKLARI  
TASARRUFLU  
KULLANALIM!

Hangi öğrenci okuldaki kaynakları tasarruflu kullanmamıştır?

A)



Sınıfımızın lambalarını devamlı açık tutarım.

B)



Okul araç-gereçlerini korurum.

C)



Açık muslukları her zaman kapatırım.

1.



Lemon



Salad





Zebra

Kelimeler gruplandığında hangisi dışarıda kalır?

- A) Zebra B) Lemon  
C) Salad

2. Aşağıdaki kelime - resim eşleştirmelerinden kaç numaralı olanı yanlıştır?

1		Gorilla
2		Kangaroo
3		Chimpanzee

- A) 3 B) 2 C) 1

3.



Aşağıdaki malzemeler hangi sporda kullanılır?

- A) Judo B) Tennis  
C) Hockey





4. Aşağıdaki görsel hangi tür binaya aittir?



- A) Hotel B) Supermarket  
C) Cinema

5. Aşağıdakilerden hangisini kendimizi tanıtırken kullanamayız?

- A) My name is Ahmet.  
B) I am fine, Ahmet.  
C) I am Ahmet.



TÜRKÇE	MATEMATİK	HAYAT BİLGİSİ	İNGLİZCE
A B C	A B C	A B C	A B C
1	1	1	1
2	2	2	2
3	3	3	3
4	4	4	4
5	5	5	5
6	6	6	6
7	7	7	7
8	8	8	8
9	9	9	9
10	10	10	10
11	11	11	11
12	12	12	12
13	13	13	13
14	14	14	14
15	15	15	15

Öğrenci No

--	--	--

Test No

1611

0		
1		
2		
3		
4		
5		
6		
7		
8		
9		



Bu deneme sınavının her hakkı saklıdır. Hangi amaçla olursa olsun, sınavın tamamının veya bir kısmının Model Eğitim Yayınları'nın yazılı izni olmadan kopya edilmesi, fotoğrafının çekilmesi, herhangi bir yolla çoğaltılması, yayımlanması ya da kullanılması yasaktır. Bu yasağa uymayanlar gerekli cezai sorumluluğu ve sınavın Üretimindeki mali külfeti peşinen kabullemiş sayılır.

**DENE MEVAKTI**

www.denemevakiti.com.tr

Model Eğitimle Daha Fazla

e-kitap satışı: [www.modelkitap.com](http://www.modelkitap.com)

**Model Eğitim Yayınları Sanayi Ticaret Ltd. Şti**

İnönü Mah. Muammer Aksoy Cad. No: 80A/1 Sefaköy-K.ÇEKMECE/İSTANBUL

0212 452 3608 - [www.modelegitim.com](http://www.modelegitim.com) - [info@modelegitim.com](mailto:info@modelegitim.com)

[/modelegitimyayincilik](https://www.facebook.com/modelegitimyayincilik) [/modelegitimyayinlari](https://www.instagram.com/modelegitimyayinlari)



SINIF İÇİ PAKET

# DENEME SINAVI

HAYAT BİLGİSİ

TÜRKÇE - MATEMATİK

# 2

İNGİLİZCE

DENEME - 3



AKILLI TAHTA  
UYUMLU



MODEL  
EĞİTİM YAYINLARI

**"ŞİMDİ DENEME VAKTİ"**

MODEL OPTİK  
OKUMA





1.



Yukarıdaki sözcüklerden kaç tanesi her zaman büyük harfle başlar?

- A) 4 B) 5 C) 6

2.

Kurum ve kuruluş adları her zaman büyük harfle başlar.

Yukarıdaki açıklamaya göre, görsellerdeki kuruluşlardan hangisinin adı doğru yazılmıştır?

- A) Sağlık hastanesi B) kurtuluş ilkokulu



- C) Kızılay



3.

Bugün Nazlı ile birlikte lunaparka gideceğiz.

Bilgi	Doğru Yanlış	
Cümle 6 sözcükten oluşmuştur.		
Bu cümlede 15 hece vardır.		
Bu cümlede bir tane özel isim vardır.		

Yukarıdaki cümle ile ilgili verilen bilgilerin doğru - yanlış kutucukları uygun şekilde işaretlendiğinde tablonun görünümü nasıl olur?

- A) 

D	Y
✓	
	✓
✓	

B) 

D	Y
	✓
	✓
✓	


- C) 

D	Y
✓	
✓	
✓	

4.



Fil, eş anlamlı kelimelerin yazılı olduğu balonları tutuyor. Hangi balonun eş anlamlısı **yoktur**?



5.

Her akşam evde ailecek kitap okuyoruz.

Yukarıdaki cümlede ünlü harf ile başlayan kaç sözcük vardır?

A) 2 B) 3 C) 4

6.

Yağmurlu havalarda gökyüzünde oluşan doğa olayıdır. Yay şeklindedir. Kırmızı, turuncu, sarı, yeşil, mavinin iki tonu ve mor renklerinden oluşur.

Yukarıda anlatılan metnin görseli hangisi olabilir?



7. Satır sonuna sığmayan sözcükler hecelerinden ayrılır.



Güzin satır sonuna sığmayan sözcükleri yazarken hangisini doğru yazmıştır?

- A) B) C)

8. Öğretmenime bir demet ..... aldım.

Yukarıdaki cümlede noktalı yere hangi sözcük yazılırsa cümle anlamlı olur?

- A) yorgan B) gül  
C) süt

- 9.

Sabah erken kalkınca  
Çantamı hazırlarım.  
Okul saati yaklaşınca  
Sevincimden uçarım.

Yukarıdaki şiirin başlığı aşağıdakilerden hangisi olabilir?

- A) Erken Yatalım  
B) Okul Sevinci  
C) Sabah Kahvaltısı

10. Öğretmen, öğrencilerden sözcüklerin yazılı olduğu kartları hecelerinden kesmelerini istemiştir.

Hece kesme oyunu



Hangi karton yanlış yerden kesilmiştir?

- |    |    |     |      |
|----|----|-----|------|
| A) | il | ko  | kul  |
| B) | ih | ti  | yaç  |
| C) | ha | nim | e li |

11. Aşağıdakilerden hangisinde zıt anlamlı kelimeler birlikte verilmiştir?

A) Ozan — Şair

B) İlk — Son

C) Yapıt — Eser

13. Aşağıdaki sözcüklerden hangisi sözlük sıralamasında diğerlerinden önce gelir?

A) Mektup B) Nane  
C) Okul

14. Aşağıdaki cümlelerden hangisinin sonuna farklı bir noktalama işareti konmalıdır?

A) Bugün sinemaya gidelim mi  
B) Kalemimi sen mi aldın  
C) Eyvah, anahtarımı evde unuttum

12. Nurdan, yaz tatilinde Anıtkabir'e gitti.



Verilen cümlede hangi sorunun cevabı **yoktur**?

A) Nereye?  
B) Nasıl?  
C) Ne zaman?

15. Ünlü sihirbaz hünerleriyle seyirciyi etkiledi.



Yukarıdaki altı çizili sözcük hangi anlamda kullanılmıştır?

A) Ustalıkla yapılan iş  
B) Şapkadan çıkan tavşan  
C) Alkışlanan kişi

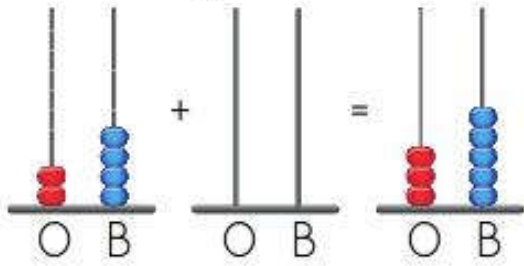
1. Aşağıda bir toplama işleminin zihinden yapılması verilmiştir.

Onluklar	→	$20 + 50 = 70$
Birlikler	→	$3 + 4 = 7$
		$\begin{array}{r} 70 \\ + 7 \\ \hline 77 \end{array}$

Buna göre, zihinden yapılan işlem aşağıdakilerden hangisidir?

- A)  $23 + 54$   
B)  $20 + 50$   
C)  $34 + 47$


2. Aşağıda abaküslerle bir toplama işlemi gösterilmiştir.



Bu işlemin doğru olabilmesi için boş bırakılan abaküsteki sayı için kaç tane boncuk kullanılır?

- A) 2      B) 6      C) 8

- 3.



Yukarıda modellenen sayıdan 6 çıkarırsak sonuç kaç olur?

- A) 32      B) 37      C) 36

- 4.



Yukarıdaki köpekler toplam kaç kemik toplamıştır?

- A) 29      B) 36      C) 65

5. Üzerinde en büyük ve en küçük sayının yazılı olduğu balonlar patlıyor.






Buna göre kalan balonların üzerindeki sayıların toplamı kaçtır?

- A) 40 B) 65 C) 75




6. Anahtarın kilidi açabilmesi için üzerinde yazılı sayı ile kilidin üzerindeki işlem sonucunun aynı olması gereklidir.

Buna göre yukarıdaki anahtar ile hangi kilidi açamayız?

- A)  40-30  
 B)  40-20  
 C)  60-50

7.     
 $24 + 25$   $18 + 31$   $40 + 19$

Yukarıdaki arabaların altında yazılı olan işlemlerden sonucu farklı olan araba hangisidir?

- A)  B)   
 C) 

8. Sepetteki fındıkların 68 tanesini arkadaşlarıma dağıttım.



Enes'in 19 fındığı kaldığına göre, başlangıçta sepette kaç fındığı vardı?

- A) 87 B) 67 C) 49



9. Mert, attığı basket sayısını en yakın onluğa yuvarlayarak söylemiştir.

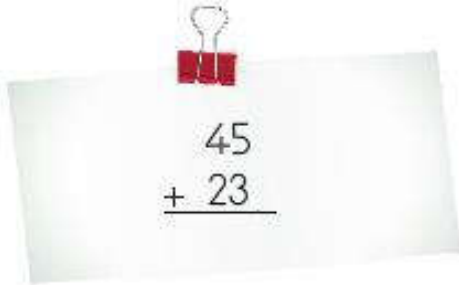
Neredeyse 30.  
basket oldu



Buna göre, aşağıdakilerden hangisi Mert'in attığı basket sayısı olamaz?

- A) 28 B) 25 C) 35

- 10.



Yukarıdaki işlemin tahmini sonucu kaçtır?

- A) 60 B) 70 C) 80

- 11.



Dedem  
72



Babam  
55



Teyzem  
46



Dayım  
?



Amcam  
34

Yukarıda aile bireyleri en yaşlıdan en gence doğru sıralanmıştır. Her bireyin yaşı, altında yazılıdır.

Buna göre, dayımın yaşı aşağıdakilerden hangisi olabilir?

- A) 49 B) 35 C) 32

- 12.



5 birlik + 3 onluk

Yukarıda ifade edilen sayı hangi şıkta doğru verilmiştir?

- A) 35 B) 43 C) 53

13. Hatice teyze inekten sağdığı sütü kovaya doldurmak istiyor.



Hatice teyze aşağıdakilerden hangisini kullanarak kovayı daha kısa sürede doldurur?

- A) Çay bardağı  
B) Su bardağı  
C) Sürahi

14. Aslı 96 sayfalık hikâye kitabının ilk gün 26 sayfasını, ikinci gün 32 sayfasını okumuştur.



Aslının okuyacağı kaç sayfası kalmıştır?

- A) 28    B) 38    C) 58

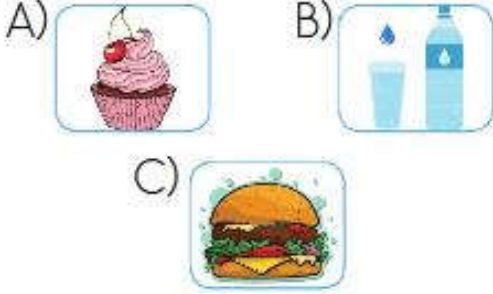
15. Öğrenciler ellerindeki kartlara birer sayı yazdılar.



Buna göre aşağıda verilen bilgilerden hangisi doğrudur?

- A) Semih'in elindeki sayı 50 ile 60 arasındadır.  
B) Ayşe'nin elinde tuttuğu sayı 20 ile 30 arasındadır.  
C) Osman'ın elinde tuttuğu sayı 30 ile 40 arasındadır.

1. Aşağıdakilerden hangisi temel ihtiyaçlarımızdandır?



2. Gün içinde yapacağımız etkinlikleri planlamalıyız.



2. sınıfta okuyan Hasan'ın bu saatte yapması gereken etkinlik aşağıdakilerden hangisidir?



3. Elif'in aile bireyleri, karşılanması gereken isteklerini söylemektedir.



Kimin isteğinin diğerlerinden daha önce karşılanması gerekir?

- A) Kardeşi B) Annesi  
C) Babası

4. Aşağıdakilerden hangisi 2. sınıfa giden bir öğrencinin evdeki sorumluluklarından biri **değildir**?

- A) Odasını toplamak  
B) Eşyaları temiz kullanmak  
C) Yemek pişirmek

5. Aşağıda Ayşe'nin akrabaları kendini tanıtmıştır.



Ben, Ayşe'nin annesinin kardeşiyim.



Ben, Ayşe'nin babasının kardeşiyim.



Ben, Ayşe'nin dayısının eşiyim.

Buna göre Ayşe bu akrabalara sırasıyla nasıl seslenir?

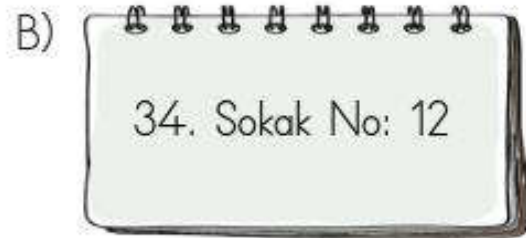
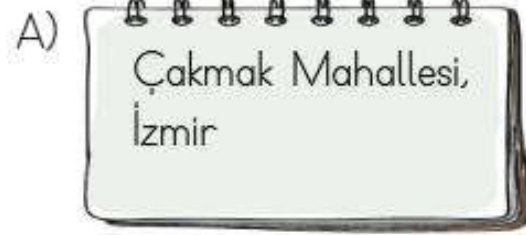
- A) Hala – dayı – yenge  
B) Teyze – amca – kuzen  
C) Teyze – amca – yenge

6. Akrabalarımızla ilişkilerimiz konusunda verilen bilgilerden hangisi doğrudur?

- A) Akrabalarımızın üzüntülerini paylaşıyoruz.  
B) Akrabalarımızı sadece bayramlarda ziyaret ederiz.  
C) Akrabalarımızı özel günlerimize çağırıyoruz.

7. Ev adresimizi öğrenmeliyiz. Böylece ihtiyaç duyduğumuzda ailemize ulaşabiliriz.

Hangi öğrenci defterine adresini tam olarak yazmıştır?



8.

Evimizde de tasarruflu olalım.

Hangi öğrenci evinde tasarruflu olmaya örnek vermiştir?

A)



Ben para harcamaya bayılıyorum.

B)



Diş fırçalarken musluğu kapatırım.

C)



Oyun oynarken televizyon açık kalabilir.

9.

→ Zeynep hasta olan arkadaşını ziyarete gider.

→ Mustafa tanımadığı kişilerin arabasına biner.

→ Ali, otobüsteki yaşlı tezeye yer verir.

Yukarıdakilerden kaç tanesi duyarlı davranışa örnektir?

A) 1

B) 2

C) 3

10.

Aile içinde karar alınırken herkesin düşüncesi alınmalıdır.



Aşağıdaki konuşmalardan hangisi verilen açıklamaya uygun **değildir**?

A) Çocuklar karar verdim, yaz tatilinde kamp yapmaya gidiyoruz.

B) Yeni evimizi nereden alalım çocuklar?

C) Herkes için uygunsa eskiyen koltukları yenileyelim.



Resimlerin altındaki boşluklara gelmesi gereken ifadeler hangi şıkta doğru sırayla verilmiştir?

A) Sit down	Open the window	Stand up
B) Open the window	Sit down	Stand up
C) Stand up	Sit down	Open the window



Boşluklara gelmesi gereken harfler hangi şıkta doğru olarak sıralanmıştır?

- A) K - K      B) C - K  
C) C - C



Konuşma balonunda boşluğa gelmesi gereken ifade hangi şıkta doğru olarak verilmiştir?

- A) What is your name?  
B) How old are you?  
C) How many books?

4.



Verilen sohbette boş bırakılan yere gelmesi gereken kelime hangi şıkta verilmiştir?

- A) welcome      B) sorry  
C) me

5.



Görseli ile ifade edilen sayının yazılışı hangi şıkta doğru olarak verilmiştir?

- A) Eight      B) Six  
C) Nine

